

ఆంధ్ర గురుకుల విద్యాలయాల సంస్థ, హైదరాబాద్

6వ తరగతి ప్రవేశపరీక్ష - 2016

మొత్తం మార్కులు : 100
(Maximum : 100)

సమయము : 2 గంటలు
Duration : 2 hours

- నూచనలు : 1. తెలుగు సభ్యత్వంలో 30, లెక్కలులో 35, పరిసరాల విజ్ఞానశాస్త్రంలో 35 ప్రశ్నలు యివ్వబడినవి. వీటిలో ఐహుజ్ సమాధానప్రశ్నలు, ఖాళీలు పూరించుట, జతపరచుటవంటి ప్రశ్నలు కలవు. ప్రతి ప్రశ్నకు 1 మార్కు కేటాయించబడినది.
2. ఒకటికన్నా ఎక్కువ సమాధానములు కానీ, సమాధానములు కొట్టివేతతో కానీ వ్రాసిన అట్టివి పరిశీలించబడవు.
3. సమాధానములు బాల్ పాయింట్ పెన్ (బ్లూ / బ్లాక్) తో మాత్రమే వ్రాయవలెను. పెన్సిల్ తో వ్రాసిన సమాధానములకు మార్కులు యివ్వబడవు.

తెలుగు - 30 మార్కులు

1. ఈ క్రింది ప్రశ్నలకు సూచించిన విధంగా బ్రాకెట్లలో సరియైన సమాధానములను బ్రాకెట్లలో గుర్తించండి.

1. భారత సవిత్రికి వందనం చేయాలి? (గీత గీసిన పదానికి అర్థం.) ()
అ) మాత ఆ) తాత ఇ) తండ్రి ఈ) అన్న
2. శ్రీనివాస్ పుస్తకం చదువుతున్నాడు ? ఏ భాషాభాగం ()
అ) విశేషణం ఆ) సర్వనామం ఇ) క్రియ ఈ) నామవాచకం
3. సౌజన్య ఎటువంటి అమ్మాయి ? ()
అ) మందమతి ఆ) చురుకైనది ఇ) వసపిట్ట ఈ) మితభాషి
4. "సుమతీ శతకం" వ్రాసినవారు ? ()
అ) వేమన ఆ) నన్నయ ఇ) తిక్కన ఈ) బద్దెన
5. బొగ్గుతో తయారయ్యే విద్యుత్ ? ()
అ) జల విద్యుత్ ఆ) ధర్మల్ విద్యుత్ ఇ) పవన విద్యుత్ ఈ) ఏదీకాదు
6. శ్రీకైలం ఏ జిల్లాలో ఉంది ? ()
అ) గుంటూరు ఆ) ప్రకాశం ఇ) కర్నూలు ఈ) తూర్పుగోదావరి
7. "చెలిమి" పదానికి అర్థం ? ()
అ) స్నేహం ఆ) కలిమి ఇ) లేమి ఈ) పోట్లాట
8. బొమ్మలుగీసేవారిని ఏమంటారు ? ()
అ) రచయితలు ఆ) గాయకులు ఇ) చిత్రకారులు ఈ) విలేకరులు
9. గోపి షావుకారుకి ఏమిచ్చాడు ? ()
అ) గుర్రం ఆ) ఏనుగు ఇ) ఒంటె ఈ) ఆవు
10. రామన్న నివసించే ప్రాంతం ? ()
అ) పల్లెటూరు ఆ) పట్టణం ఇ) మురికివాడ ఈ) పచ్చనిపొలాలు

11. అన్నం ఏ స్వరూపం? ()
 అ) అమ్మ ఆ) తండ్రి ఇ) ఈశ్వర ఈ) పరబ్రహ్మ
12. మన జెండాలోని కాషాయం రంగు దేనికి గుర్తు? ()
 అ) ధైర్యానికి ఆ) శాంతికి ఇ) పాడిపంటలకు ఈ) గౌరవానికి
13. రజనీపాట పాడుతూ ఉంది? ఏ కాలము ()
 అ) భూతకాలం ఆ) వర్తమానకాలం ఇ) భవిష్యత్కాలం ఈ) ఏదీకాదు
14. పాపయ్య చెట్టు నీడను ఎంతకమ్మాడు? ()
 అ) 100 ఆ) 10 ఇ) 1000 ఈ) 110
15. మీకు దసరా సెలవులు ఎప్పుడిస్తారు ()
 అ) ? ఆ) . ఇ) , ఈ) ఏదీకాదు

II ఈ క్రింది ఖాళీలను పూరించండి.

16. మన జాతీయ జెండా రూపకర్త _____.
17. కనుమ పండుగను _____ పండుగ అని కూడా అంటారు.
18. సంక్రాంతికి సూర్యుడు ధనూరాశి నుండి _____ రాశికి ప్రవేశిస్తాడు.
19. మనసుంటే _____ ఉంది.
20. అచ్చు యంత్రాన్ని కనుగొన్నది _____.
21. యాదయ్య ఎవరేమి మాట్లాడినా _____ రాయిలా ఉంటాడు.
22. నాయనమ్మ గోపికి _____ కొని తెచ్చింది.
23. మాతోట _____ మూట.
24. జ్యోత్స్న _____ తోనే అన్నిపనులు చేస్తుంది.
25. 'దక్షరామం' _____ జిల్లాలో ఉంది.

జతపరచండి.

26. 1. ఇరవైన కరుణతో నార్ల చిరంజీవి ()
27. 2. చిరిగిన చొక్కా అయినా తొడుక్కో పొదుపు ()
28. 3. తెలుగుబిడ్డ ఎరువువేస్తాము ()
29. 4. అన్నం మంచి పుస్తకం కొనుక్కో ()
30. 5. విద్యుత్ ఆకలి ()

1. Multiple Choice Questions :

బహుళైచ్ఛిక ప్రశ్నలు :

Choose The Correct Answer :



సరియైన సమాధానమును సూచించుము :

1. $496+128+922=?$ []



- a) 1456 b) 1546 c) 1654 d) 1645

$496+128+922=?$

- ఎ) 1456 బి) 1546 సి) 1654 డి) 1645

2. The Scroe denoted by the tally mark   || []

- a) 12 b) 15 c) 10 d) 14

  || గణన చిహ్నం సూచించబడే సంఖ్య ?

- ఎ) 12 బి) 15 సి) 10 డి) 14

3. One rupee coin shape is an example for ? []

- a) Circle b) Square c) Rectangle d) Triangle

రూపాయి నాణెము యొక్క ఆకారం దీనికి ఉదాహరణ

- ఎ) వృత్తం బి) చతురస్రం సి) దీర్ఘ చతురస్రం డి) త్రిభుజం

4. Number of days in a leap year []

- a) 365 b) 306 c) 360 d) 366

1 లీపు సంవత్సరానికి రోజుల సంఖ్య

- ఎ) 365 బి) 306 సి) 360 డి) 366

5. A bag contains $3\frac{1}{2}$ dozen bananas. Then the number of bananas in it is []

- a) 36 b) 30 c) 42 d) 40

ఒక సంచీలో $3\frac{1}{2}$ దజన్ల అరటిపండ్లు గలవు. దానిలోని పండ్ల సంఖ్య

- ఎ) 36 బి) 30 సి) 42 డి) 40



6.  The time shown in this watch ? []

- a) 10 hrs 15 mnts b) 9 hrs 15 mnts c) 10 hrs 20 mnts d) 9 hrs 25 mnts



ప్రక్కనున్న గడియారంలోని సమయమెంత?

- ఎ) 10 గం|| 15 ని|| బి) 9 గం|| 15 ని|| సి) 10 గం|| 20 ని|| డి) 9 గం|| 25 ని||

7. The rate of Rice is ₹ 30 per kg. Then the cost of $2\frac{1}{2}$ kg Rice is? []
 a) ₹ 75 b) ₹ 60 c) ₹ 70 d) ₹ 65
 1 కి.గ్రా. బియ్యం వెల రూ. 30. అయిన $2\frac{1}{2}$ కి.గ్రా. బియ్యం వెల?
 ఎ) రూ. 75 బి) రూ. 60 సి) రూ. 70 డి) రూ. 65
8. Side of square is 5 cms. Then its perimeter is? []
 a) 25 cms b) 20 cms c) 30 cms d) 35 cms
 ఒక చతురస్ర భుజం 5 సెం.మీ. అయిన దాని పరిధి ?
 ఎ) 25 సెం.మీ. బి) 20 సెం.మీ. సి) 30 సెం.మీ. డి) 35 సెం.మీ.
9. $\rightarrow \leftarrow \rightarrow \leftarrow \rightarrow$? []
 a) $\leftarrow \leftarrow \leftarrow$ b) $\rightarrow \rightarrow \rightarrow$ c) $\uparrow \uparrow \uparrow$ d) $\downarrow \downarrow \downarrow$
 $\rightarrow \leftarrow \rightarrow \leftarrow \rightarrow$?లో ? ఏది.
 ఎ) $\leftarrow \leftarrow \leftarrow$ బి) $\rightarrow \rightarrow \rightarrow$ సి) $\uparrow \uparrow \uparrow$ డి) $\downarrow \downarrow \downarrow$
10. $5 \times 5 \times 5 \times 3 \times (1-1) = ?$ []
 a) 25 b) 125 c) 375 d) 0
 $5 \times 5 \times 5 \times 3 \times (1-1) = ?$
 ఎ) 25 బి) 125 సి) 375 డి) 0
11.  The shaded part in this figure is? []
 a) $\frac{3}{9}$ b) $\frac{4}{9}$ c) $\frac{5}{9}$ d) $\frac{6}{9}$
 ప్రక్కనున్న పటంలో షేడ్ చేయబడిన భాగం?
 ఎ) $\frac{3}{9}$ బి) $\frac{4}{9}$ సి) $\frac{5}{9}$ డి) $\frac{6}{9}$
12. The 15th multiple of 11 is []
 a) 156 b) 165 c) 561 d) 651
 11 యొక్క 15వ గుణిజ సంఖ్య
 ఎ) 156 బి) 165 సి) 561 డి) 651
13. The expanded form of 693 is []
 a) $6 \times 100 + 9 \times 10 + 3 \times 1$ b) $9 \times 100 + 6 \times 10 + 3 \times 1$
 c) $3 \times 100 + 9 \times 10 + 6 \times 1$ d) $3 \times 100 + 6 \times 10 + 9 \times 1$
 693 యొక్క విస్తరణ రూపం
 ఎ) $6 \times 100 + 9 \times 10 + 3 \times 1$ బి) $9 \times 100 + 6 \times 10 + 3 \times 1$

$$సి) 3 \times 100 + 9 \times 10 + 6 \times 1$$

$$డి) 3 \times 100 + 6 \times 10 + 9 \times 1$$

14. Number of pens in a packet is 5 then the number of pens in 6 packets is []

- a) 30 b) 35 c) 50 d) 60

ఒక ప్యాకెట్‌లో 5 పెన్నులు గలవు. 6 ప్యాకెట్లలోని పెన్నుల సంఖ్య

- ఎ) 30 బి) 35 సి) 50 డి) 60

15. $120 \times 150 = \square + 120$ []

- a) 120 b) 270 c) 720 d) 150

$$120 \times 150 = \square + 120$$

- ఎ) 120 బి) 270 సి) 720 డి) 150

16. 2 Hrs 15 minutes = _____ Minutes []

- a) 120 b) 215 c) 135 d) 125

2 గంటల 15 నిమిషాలు =నిమిషాలు

- ఎ) 120 బి) 215 సి) 135 డి) 125

17. No. of corners for a rectangle is []

- a) 3 b) 4 c) 5 d) 6

దీర్ఘ చతుస్రం యొక్క మూలల సంఖ్య

- ఎ) 3 బి) 4 సి) 5 డి) 6

18. 27, 36, 45, X ... then X = ? []

- a) 54 b) 63 c) 72 d) 81

27, 36, 45, X అయిన X విలువ ?

- ఎ) 54 బి) 63 సి) 72 డి) 81

19. 500 ml of fruit juice costs ₹ 20. Then the cost of 2 litres of fruit juice is []

- a) ₹ 500 b) ₹ 200 c) ₹ 40 d) ₹ 80

500 మి.లీ. పండ్లరసం వెల రూ. 20 అయిన 2 లీటర్ల పండ్ల రసం వెల?

- ఎ) రూ. 500 బి) రూ. 200 సి) రూ. 40 డి) రూ. 80

20. How many grams of rice is in $5\frac{1}{2}$ Kg of rice

- a) 500 gms b) 5050 gms c) 5500 gms d) 1250 gms

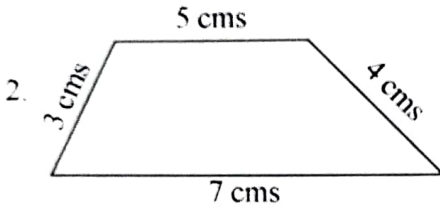
$5\frac{1}{2}$ కి.గ్రా. బియ్యంను గ్రాముల్లో తెల్పిన

- ఎ) 500 గ్రా. బి) 5050 గ్రా. సి) 5500 గ్రా. డి) 1250 గ్రా.

II. Fill in the blanks

ఖాళీలను పూరింపుము

1. The angle between the hands of clock at 3'0 clock _____
3 గంటల సమయంలో ముల్లల మధ్య కోణం _____



The perimeter of the figure shown aside is _____ cms
ప్రక్కనున్న పటంలో యొక్క చుట్టుకొలత _____ సెం.మీ.

3. $6 \times 1000 + 8 \times 100 + 9 \times 10 + 5 \times 1 =$ _____

4. The least fraction among $3/16, 5/16, 1/16$ is _____
 $3/16, 5/16, 1/16$ లలోని కనిష్ట భిన్నం _____

5. Monthly rent for a room is ₹ 950, Then its rent for 2 years is ₹ _____
ఒక గదికి నెలకు అద్దె రూ. 950. అయిన 2 సంవత్సరాలకు దాని అద్దె రూ. _____

6. $1.2 \times 1.2 \times 0.2 =$ _____

7. $16 \times 56 =$ _____ $\times 16$

8. No. of corners in a triangle is _____
త్రిభుజం యొక్క మూలల సంఖ్య _____

9. $350 \text{ gms} +$ _____ $\text{gms} = 1 \text{ Kg.}$
 $350 \text{ గ్రా} +$ _____ $\text{గ్రా.} = 1 \text{ కి.గ్రా.}$

10. The shade of a ball is _____ Shape
ఒక బంతి యొక్క నీడ _____ ఆకారంలో వుండును.

III. Match the following

క్రిందివానిని జతపరచుము

| A | B |
|--------------------------------------|------------------------------------|
| 1. 2 K.M. 400 M = 2కి.మీ. 400 మీ. | a) 4500 m.l. [] 4500 మి.లీ. |
| 2. 2½ quintals = 2½ క్వింటాళ్ళు | b) 75 [] |
| 3. 4½ litres = 4½ లీ. | c) 180 minutes [] 180 నిమిషాలు |
| 4. 6¼ dozen = 6¼ దజన్లు | d) 2400 M [] 2400 మీ. |
| 5. 3 Hours = 3 గంటలు | e) 250 K.G. [] 250 కి.గ్రా॥ |

I. Multiple Choice Questions :

బహుళైచ్ఛిక ప్రశ్నలు :

Choose The Correct Answer :

సరియైన సమాధానమును సూచించుము :

1. The main reason for pollution in nature is? []
 a) Animals b) Trees c) Man d) Vehicles
 ప్రకృతి కాలుష్యానికి ప్రధానమైన కారణం ?
 ఎ) జంతువులు బి) చెట్లు సి) మానవులు డి) వాహనాలు
2. The number of Loksabha members is? []
 a) 554 b) 543 c) 250 d) 545
 లోకసభ సభ్యుల సంఖ్య ?
 ఎ) 554 బి) 543 సి) 250 డి) 545
3. Number of languages recognized by Indian constitution []
 a) 21 b) 18 c) 22 d) 50
 భారత రాజ్యాంగము గుర్తించిన భాషల సంఖ్య ?
 ఎ) 21 బి) 18 సి) 22 డి) 50
4. Right to compulsory free education Act was introduced in the year? []
 a) 2010 b) 2005 c) 2000 d) 2009
 ఉచిత ప్రాథమిక విద్యా చట్టం ఏర్పాటు గావించబడిన సంవత్సరం ?
 ఎ) 2010 బి) 2005 సి) 2000 డి) 2009
5. The number of states in our Indian Union? []
 a) 29 b) 28 c) 22 d) 25
 మన దేశములో మొత్తం రాష్ట్రాల సంఖ్య ?
 ఎ) 29 బి) 28 సి) 22 డి) 25
6. What is the age for a citizen to get right to vote in India []
 a) 25 b) 18 c) 21 d) 24
 భారతదేశంలో ఎన్ని సంవత్సరములు నిండిన పౌరునికి ఓటు హక్కు కల్పించబడును. ?
 ఎ) 25 బి) 18 సి) 21 డి) 24

13. The people live in Nallamala Forest are
a) Tribes b) Gond c) Yerukula d) Chenchu
నల్లమల అడవులలో నివసించే ప్రజలు ?
ఎ) జాతులు బి) గోండు సి) ఎరుకుల డి) చెంచు
14. Our ancestors lived in ?
a) Buildings b) Huts c) Forests d) Caves
మన పూర్వీకులు నివసించిన ప్రాంతం
ఎ) భవనాలు బి) గుడిసెలు సి) అడవులు డి) గుహలు
15. Important fair to Gonds is
a) Muthyalamma b) Gondpanch c) Bonalu d) Nagoba
గోండుల ముఖ్యమైన జాతర ?
ఎ) ముత్యాలమ్మ బి) గోండుపంచ్ సి) బోనాలు డి) నాగోభా
16. The air around us is called ?
a) Atmosphere b) Wind c) Humidity d) Air pressure
మన చుట్టూ ఆవరించియున్న గాలిని ఏమంటారు ?
ఎ) వాతావరణం బి) పెనుగాలి సి) నీటి ఆవిరియున్నగాలి డి) గాలి వత్తిడి
17. Air is mixture of?
a) Pollution b) Ice c) clouds d) Gases
గాలి దేని మిశ్రమం ?
ఎ) కాలూష్యం బి) మంచు సి) మేఘాలు డి) వాయువులు
18. Natural satellite of the earth is?
a) Earth b) Moon c) Sun d) Stars
భూమికి అతి సహజమైన ఉపగ్రహం ?
ఎ) భూమి బి) చంద్రుడు సి) సూర్యుడు డి) నక్షత్రములు
19. What do we need to work ?
a) Butter Milk b) Water c) Energy d) Milk
మనము పనిచేయుటకు కావలసినది ?
ఎ) మజ్జిగ బి) నీరు సి) శక్తి డి) పాలు
20. The distance between T.V. and our eyes must not less than meters ?
a) 2.5 M b) 5 M c) 3.5 M d) 4.2 M
మనము టి.వి.ని చూస్తున్నప్పుడు మనకు టి.వి.కి ఎంతదూరం వుండాలి ?
ఎ) 2.5 మీ. బి) 5 మీ. సి) 3.5 మీ. డి) 4.2 మీ.

II. Fill in the blanks

భాళీలను పూరింపుము

21. Milk teeth are formed at the age of _____
పిల్లలకు బాలదంతాలు ఎప్పుడు వచ్చును _____
22. Over usages of pesticides in food grains causes _____
రసాయనిక ఎరువులు అతిగా వాడుటవలన _____ అగును
23. Trees should not be _____
మొక్కలను ఏమాత్రము _____
24. _____ Vegetables help us keep healthy
_____ కూరలు ఆరోగ్యమునకు తోడ్పడును
25. Number of bones in our body _____
మానవుని దేహములోని ఎముకల సంఖ్య _____
26. _____ Helps us to regulate body temperature
మానవుని శరీర ఉష్ణోగ్రతను కాపాడే పదార్థం _____
27. The chief excretory organ in our body is _____
దేహంలో ప్రధానమైన విసర్జక అవయవము _____
28. Drought of Andhra Pradesh had experienced a cyclonic havoc in the year _____
ఆంధ్రప్రదేశ్‌లో దివిసీమకు ఉప్పెన వచ్చిన సంవత్సరం _____
29. Number of languages in India are _____
భారతదేశములోని భాషలసంఖ్య _____
30. India is in _____ continent
భారతదేశము _____ ఖండములోనున్నది

III. Match the following

(క్రిందివానిని జతపరచుము)

| A | B |
|------------------------------------|--------------------------------------|
| 1. Halen Hiller హెలన్ హిల్లర్ | a) Amavasya [] అమావాస్య |
| 2. Thimsa Dance తిమ్సా డ్యాన్స్ | b) Araku Womens [] అరకు స్త్రీలు |
| 3. Palusa Fish పలుసా చేప | c) Brahmagiri [] బ్రహ్మగిరి |
| 4. Godavari గోదావరి | d) Hilsa Ilish [] హిలసా హిలిస్ |
| 5. New Moon న్యూమూన్ | e) America [] అమెరికా |